




QUESTION!

2/10

リロード

アとイは どちらが おおいでしょうか。



こたえ

ア

イ



判定する
はんてい

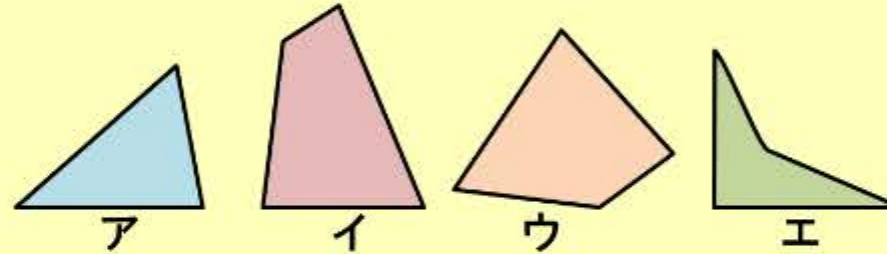


QUESTION!

4/10

リロード

三角形は どれでしょう。ア～エの なかから えらびましょう。



こたえ

- ア
- イ
- ウ
- エ



判定する
はんでい



QUESTION!

1/10

リロード

つぎの長さをはかるとき、まきじゃくをつかうものはどれでしょう。正しいものを2つえらびましょう。


ア



イ



ウ



エ



答え

- ア: おなかのまわり
- イ: 本のあつさ
- ウ: えんぴつの長さ
- エ: さくらの木のまわりの長さ



判定する
はんてい

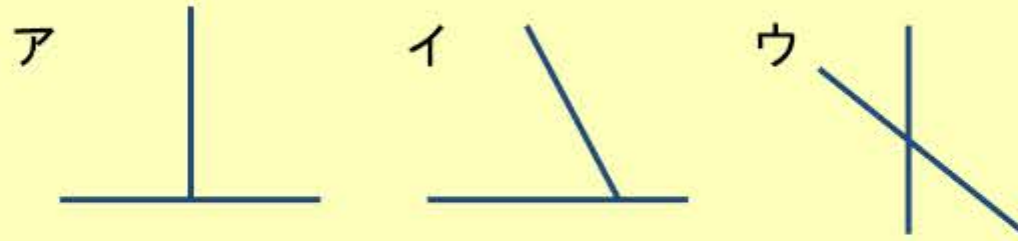


QUESTION!

1/10

リロード

次のア、イ、ウの図で、2本の直線が すいちよく 垂直 であるものはどれでしょう。



答え

- ア
- イ
- ウ



判定する
はんでい



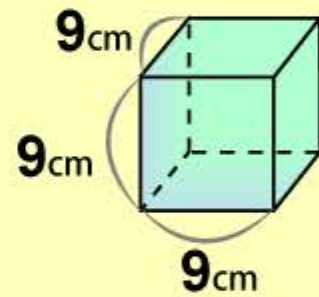
QUESTION!

2/10

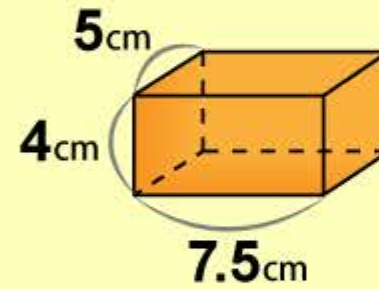
リロード

図の立方体と直方体の体積を求めましょう。

(1)



(2)



(1)

立方cm

(2)

立方cm



判定する
はんてい



QUESTION!

4/10

リロード

図のようにかどが丸くなっているメモ帳があります。このメモ帳をほぼ長方形と考えて面積を計算します。次の（ ）にあてはまる数を答えましょう。

メモ帳の面積は約（ ） cm^2 です。（小数第一位を四捨五入して、整数で答えましょう。）



答え

cm^2



判定する
はんでい