

読む

7月 1

ものがたりばめんやじんぶつのようなよみずを読みとる

スイミー

- ①
- ②
- ③

教科書

46～58P

語句楽帳

1～3P

ろうどくCD

答えとかいせつ

2P

月 日

きょうのポイント

- ◎お話のばめんがどうかわったのかをまとめる。
- ◎お話に出てくるじんぶつのようなよみずを読みとる。

きょうかしよ

ポイントチェック ①

まともめしよう。()にあうことばを書きましよう。

ばめん1

おそろしい () がつつこん
 できて、魚のきょうだいたちを
 () だ。
 スイミーは、ひとりぼっちになつてし
 まった。



ばめんとは、お話のばしよが
 かわつたり、できごとが
 かわつたりするところす。

ばめん2

スイミーは、海のそこですばらしい
 ものや
 () ものを
 () を
 見るたびに、だんだん
 () を
 とりもどした。



ばめん3

スイミーは、小さな魚たちといっしょ
 におよいで、
 () を
 おい出した。

ポイントチェック ② 「スイミー」はどんな魚なのかをまとめましよう。

(1) 「スイミー」はどこにすんでいましたか。

広い () の中。

小さな魚のきょうだいたち
 と、たのしくくらしていたん
 だね。

(2) 「スイミー」は、きょうだいとくらべて、どんなとくちようがありましたか。

() にあうことばを書きましよう。

- ・からす貝よりも () 。
- ・およぐのは、だれよりも () 。

きょうだいたちは、
 みんな、赤い色を
 していたよ。



9. たし算とひき算のひっ算

大きい数のひっ算①②

きょうかしょ 90~91p

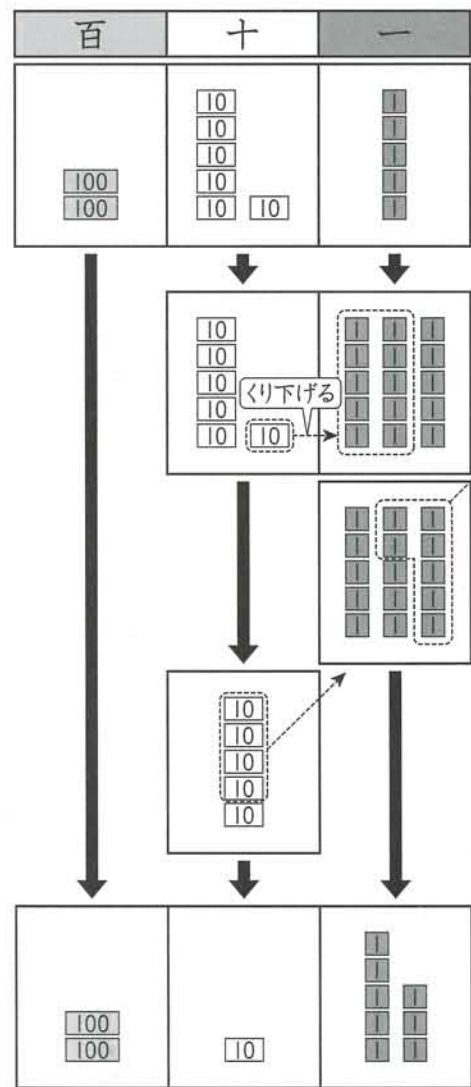
べんきょうした日

月 日

きょうのポイント

●3けたの数から2けたの数や1けたの数をひく計算をする。

◎ 265 - 47 のひっ算のしかたを考えましょう。



$$\begin{array}{r} 265 \\ - 47 \\ \hline \end{array}$$

$$\begin{array}{r} 2\overset{5}{\cancel{6}}5 \\ - 47 \\ \hline 8 \end{array}$$

く ら い を た て に そ ろ え て 書 く。

一のくらの計算

5から7をひけないので、十のくから1くり下げる。

15 - 7 = 8

十のくらの計算

1くり下げたので5

$$\begin{array}{r} 2\overset{5}{\cancel{6}}5 \\ - 47 \\ \hline 18 \end{array}$$

5 - 4 = 1

$$\begin{array}{r} 265 \\ - 47 \\ \hline 218 \end{array}$$

百のくらの計算

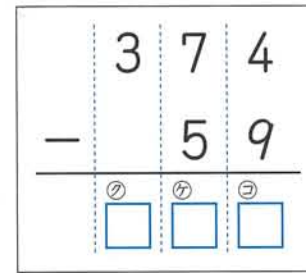
2はそのままおろす

265 - 47 = 218

ポイントチェック

□をうめて、ときかたをりかいしましょう。

374 - 59 の計算をひっ算でしましょう。



一のくらは、十のくから1くり下げて、

① □ - ② □ = ③ □

十のくらは、1くり下げたので、6。

④ □ - ⑤ □ = ⑥ □

百のくらは、3をそのままおろす。

374 - 59 = ⑦ □

かくにんもんだい

こたえは 14ページ

1 つぎのひっ算をしましょう。

(1) 345 - 23

(2) 488 - 86

(3) 590 - 61

(4) 375 - 69

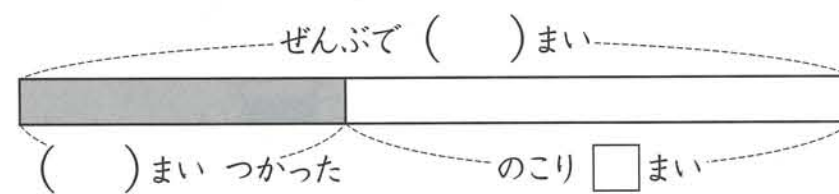
(5) 684 - 9

(6) 813 - 8

2 ゆきおさんのクラスには、365まいの画用紙があります。

今日59まいつかいました。何まいのこっていますか。

(1) 下の図の()に、数を書きましょう。



(2) しきと 答えを もとめましょう。

(しき)

答え