

よむ
6月 3

えをみながらせつめいぶんをよむ

くちばし

きょうのポイント

◎もんだいの ぶんとこたえのぶんから、なんのせつめいぶんかをよみとる。

◎しゃしんをみながら、くちばしのかたちとえさのたべかたをよみとる。

きょうかしよ
43~49P

語句楽帳
11~15P

ろうどくCD
6月-20

こたえとかいせつ
10P

月 日

せつめいぶんは、もののしくみやようすをよくわかるようにせつめいしているぶんしよのことです。

なんのせつめいをしているのかな。じゅんによんでいこうね。



ポイントチェック ① 教 43~44P をよみ、もんだいとこたえのぶんをみつけて、せんでむすびましょう。

- もんだい
- きつつきの
- くちばしです。
- こたえ
- なんのくちばし
- でしょう。

もんだいは、ぶんのおわりでどういいかな。たをしてるかな。



ポイントチェック ② きつつきのくちばしについて、まとめました。□にあてはまることばをかきましょう。

かたち
するどくがった
かたち。

やくめ
きにあける。
きを

たべもの
きのなかの
をたべる。

くちばしをつかって、きにあなをあけるのです。



かくにんもんだい くちばしのかたち
とたべものをせんでつなぎましょう。

- ① きつつき
- ② おうむ
- ③ はちどり

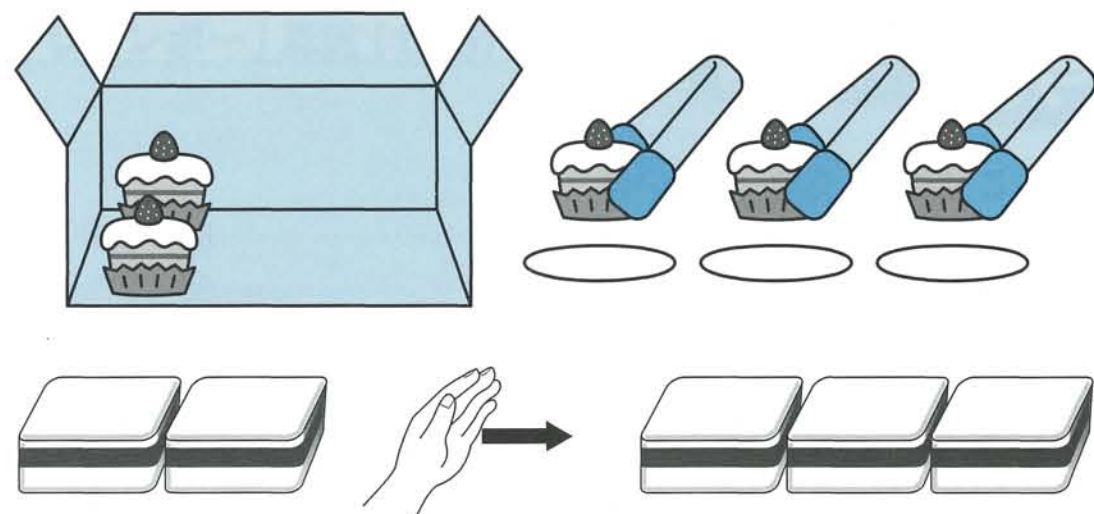


● - (ひく) ... minus ● ひきざん ... subtraction

きょうのポイント

- のこりの いみが わかる。
- のこりは いくつ の ことを ひきざん の しき で あらわす。

のこりは なんこに なりますか。



5 から 3 を とると、のこりは 2 に なります。
この こと を した の よう に あらわ し ま す。

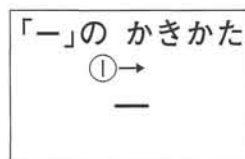
(しき) $5 - 3 = 2$

5 から 3 を とる こと を、
5 から 3 を ひく と い い ま す。



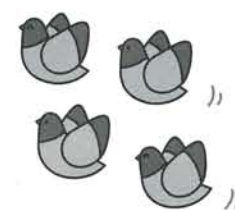
5 - 3 の よう な けい さ ん を 「ひきざん」と
い い ま す。

こたえは 「こたえ 2 こ」 の よう に
か き ま す。




ポイントチェック

のこりは なんわに なりますか。



(しき) ① $\square - \square = \square$

こたえ ④ \square わ



かくにんもんだい

こたえは 23 ページ

のこりは いくつに なる でしょう。
しき に かいて こたえ ま し ょ う。

(1)



(しき)

こたえ

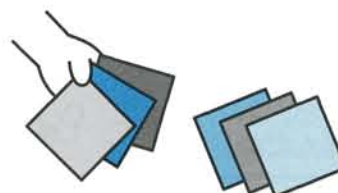
(2)



(しき)

こたえ

(3)



(しき)

こたえ